



i-4

T.C.  
MİLLÎ EĞİTİM BAKANLIĞI

**AÇIK İLKÖĞRETİM OKULU**  
**2007 - 2008 ÖĞRETİM YILI NOT YÜKSELTME SINAVI**  
**4. OTURUM: 18 MAYIS 2008 Saat: 14.00**

Adayın Adı ve Soyadı :

Aday Numarası :

**DİKKAT:**

1. Bu oturumda, 7 derse ait test soruları yer almaktadır.

**MATEMATİK - 7**

**ALMANCA - 7**

**SOSYAL BİLGİLER - 7**

**FRANSIZCA - 7**

**İNGİLİZCE - 7**

**GÜZEL KONUŞMA ve YAZMA - 7**

**TURİZM - 7**

2. Adaylar soru kitapçıklarını kontrol ederek baskı hatası olan kitapçığın değiştirilmesi için sınav başlamadan önce salon sorumlularına başvuracaklardır.

3. Sınavda hesap makinesi, cep telefonu ve çağrı cihazı kullanılması yasaktır. Bu cihazları sınav başlamadan önce salon başkanına teslim ediniz.

**CEVAP KÂĞIDI İLE İLGİLİ AÇIKLAMA**

1. Cevap kâğıdı üzerine yapacağınız işaretlemelerde kurşunkaleminden başka hiçbir kalem kullanmayınız.
2. Verilen cevap kâğıdında yazılı olan bilgilerin size ait olup olmadığını kontrol ediniz. Size ait değilse salon sorumlularına söyleyiniz. Adınıza yazılı cevap kâğıdı bulunamıyorsa veya cevap kâğıdınız kullanılamayacak şekilde bozursa, verilecek olan yedek cevap kâğıdına, kimliğinizle ilgili bilgileri, salon başkanının açıklamalarına göre yazınız.
3. Sınavda tek cevap kâğıdı kullanılacaktır. Cevaplarınızı cevap kâğıdındaki ilgili sütunlara aşağıdaki örnekte olduğu gibi yuvarlağı, dışına taşırmadan işaretleyiniz. Yanlış karalamalarınızı düzeltirken yuvarlağın içini temizce siliniz. Cevap kâğıdınızı buruşturmayınız, katlamayınız ve üzerine gereksiz işaret koymayınız.

**ÖRNEK KODLAMA:**

(A)

(B)

(C)

(D)

**SORU KİTAPÇIĞI İLE İLGİLİ AÇIKLAMA**

1. Her ders için **20 soru** bulunmaktadır. Bu oturum için, toplam **150 dakikalık** cevaplama süreniz vardır.  
**Not:** Öğrencinin kaç dersi olursa olsun, isterse bu sürenin tamamını kullanabilir.
2. Her sorunun dört seçeneğı vardır. Dört seçenekten sadece bir tanesi doğru cevaptır. Doğru bulduğunuz seçeneğı, cevap kâğıdında o soru için ayrılan yerde bularak işaretleyiniz.
3. Size ayrı bir karalama kâğıdı verilmeyecektir. Soru kitapçığınızın içindeki boş alanları karalama yapmak için kullanabilirsiniz.
4. Puanlamada, her doğru cevaba puan verilecek; yanlış cevaplarınız dikkate alınmayacaktır.
5. Sınavın bitiminde cevap kâğıdınızı ve soru kitapçığınızı salon sorumlularına teslim etmeyi unutmayınız.

Arka kapağı geçiniz.

**BAŞLAYINIZ DENİLMEDEN SORU KİTAPÇIĞINI AÇMAYINIZ**

4. OTURUM

MATEMATİK - 7

1.  $-3 < a < 7$  sıralamasında a yerine aşağıdakilerden hangisi yazılırsa, sıralama yanlış olur?

A) -5 B) -1 C) 0 D) 4

2. İki basamaklı en küçük negatif tamsayı ile üç basamaklı en büyük negatif tamsayının toplamı kaçtır?

A) -1098 B) -1010 C) -199 D) -111

3.  $(-6) - (-2) \times (+5)$  işleminin sonucu kaçtır?

A) -20 B) -3 C) 4 D) 60

4.  $\frac{3}{4}, \frac{5}{8}, \frac{1}{2}$  rasyonel sayılarının büyükten küçüğe doğru sıralanışı aşağıdakilerden hangisidir?

A)  $\frac{3}{4} > \frac{5}{8} > \frac{1}{2}$  B)  $\frac{5}{8} > \frac{3}{4} > \frac{1}{2}$   
C)  $\frac{3}{4} > \frac{1}{2} > \frac{5}{8}$  D)  $\frac{1}{2} > \frac{5}{8} > \frac{3}{4}$

5.  $\frac{2,7 \times 10^5}{9 \times 10^3}$  işleminin sonucu kaçtır?

A) 0,3 B) 30 C) 300 D) 3000

6.  $\frac{1 - \frac{1}{3}}{\frac{1}{3} - 2}$  işleminin sonucu aşağıdakilerden hangisidir?

A)  $-\frac{9}{10}$  B)  $-\frac{2}{5}$  C) 0 D)  $\frac{2}{3}$

7. Aşağıdakilerden hangisi bir önermedir?

A) Haydi sinemaya gidelim!  
B) Sınava çok çalıştın mı?  
C) Nerede çalışıyorsun?  
D) Bir gün 25 saattir.

8. Toplamları 336 olan üç ardışık tam sayının en büyüğü kaçtır?

A) 110 B) 111 C) 113 D) 115

9.  $3x - 1 \geq 11$  eşitsizliğini sağlayan tam sayılar kümesi aşağıdakilerden hangisidir?

A) {11, 12, 13,...} B) {4, 5, 6,...}  
C) {3, 4, 5,...} D) {5, 6, 7,...}

10. Koordinat düzleminde,  $(-1, 3)$  noktasının yy' eksenine göre simetrisi olan nokta aşağıdakilerden hangisidir?

A)  $(-1, -3)$  B)  $(1, -3)$   
C)  $(3, -1)$  D)  $(1, 3)$

11. Aşağıdaki noktalardan hangisi  $y = 2x - 1$  denkleminin grafiği üzerinde bulunmaz?

A) (2, 3) B) (0, -1)  
C)  $(-1, -3)$  D) (1, 0)

12. Bir emlakçı sattığı her evden %2 komisyon almaktadır. Sattığı bir evden 1560 YTL komisyon alan bu emlakçı evi kaç YTL'ye satmıştır?

A) 78 000 B) 92 000  
C) 156 000 D) 312 000

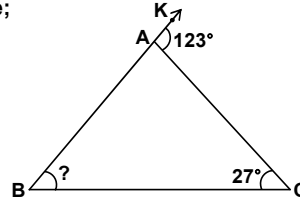
13. Yandaki üçgende;

$\angle ACB = 27^\circ$  ve

$\angle KAC = 123^\circ$

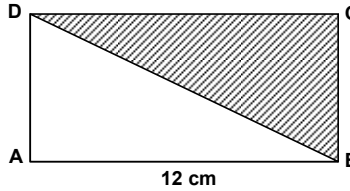
olduğuna göre,

$\angle ABC$  kaç derecedir?



A) 27 B) 72 C) 96 D) 150

- 14.



Yukarıdaki ABCD dikdörtgeninde taralı bölgenin alanı  $30 \text{ cm}^2$  dir.  $|AB| = 12 \text{ cm}$  olduğuna göre,  $|BC|$  kaç  $\text{cm}$ ' dir?

A) 5 B) 6 C) 10 D) 15

15. Düzgün bir sekizgenin iç açılarından birinin ölçüsü kaç derecedir?

A) 145 B) 135 C) 120 D) 80

#### 4. OTURUM

#### SOSYAL BİLGİLER - 7

16. Alanı  $108 \text{ cm}^2$  olan yamuğun üst taban uzunluğu 7 cm ve yüksekliği 9 cm'dir. Bu yamuğun alt taban uzunluğu kaç cm'dir?

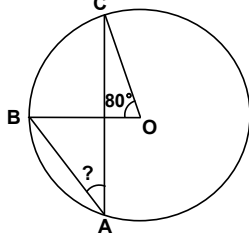
A) 5 B) 14 C) 17 D) 19

17. Verilen O merkezli çemberde

$$\angle BOC = 80^\circ$$

olduğuna göre,

$\angle BAC$  kaç derecedir?



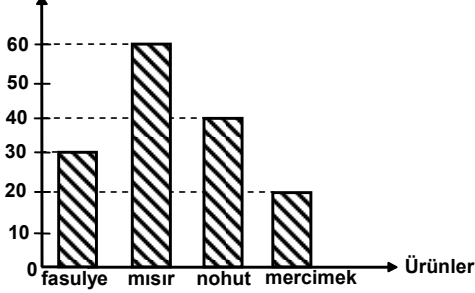
A) 40 B) 60 C) 80 D) 100

18. Silindirik şeklindeki bir kütüğün taban çapı 40 cm, uzunluğu 1 m'dir. Bu kütüğün yüzeylerinin alanları toplamı kaç  $\text{cm}^2$  dir? ( $\pi$ 'yi 3 alınız.)

A) 6800 B) 8200 C) 12 000 D) 14 400

19. Aşağıdaki grafik bir ilde üretilen fasulye, mısır, nohut ve mercimeğin yıllık üretim miktarlarını göstermektedir. Grafiğe göre, mısır üretiminin miktarı, bu ürünlerin toplam üretiminin kaçta kaçtır?

Yıllık üretim miktarları (bin ton)



A)  $\frac{1}{4}$  B)  $\frac{2}{5}$  C)  $\frac{3}{4}$  D)  $\frac{4}{5}$

20. Bir sınıftaki 7 öğrencinin yaşlarının aritmetik ortalaması 15'tir. Öğrencilerden biri sınıftan çıkıyor. Sınıfta kalan öğrencilerin yaşları sıra ile 13, 15, 16, 14, 15 ve 16 olduğuna göre, sınıftan çıkan öğrenci kaç yaşındadır?

A) 13 B) 14 C) 15 D) 16

1. İstanbul'un Türklerin eline geçmesiyle Avrupalıların Doğu ile olan ticaret yollarının bir bölümü kapanmıştı. Bunun üzerine Avrupalılar Doğu ile ticareti devam ettirmek için yeni yollar aramaya başladılar.

Bu durumun, aşağıdaki olaylardan hangisinin ortaya çıkmasında daha çok etkili olduğu söylenebilir?

A) Derebeyliklerin ortadan kalkmasında  
B) Rönesans hareketlerinin doğmasında  
C) Coğrafi keşiflerin başlamasında  
D) Fransız İhtilali'nin çıkmasında

2. Aşağıdakilerden hangisi, Kaptan-ı Derya Barbaros Hayrettin Paşa ile ilgili değildir?

A) Cezayir'in Osmanlı yönetimi altına alınması  
B) Kıbrıs Adası'nın fethedilmesi  
C) Ege'deki Venediklilere ait adaların ele geçirilmesi  
D) Preveze Deniz Savaşı'nın kazanılması

3. Kanuni Sultan Süleyman'ın Hint Deniz Seferleri'ni başlatmasının temel amacı, aşağıdakilerden hangisidir?

A) Kuzey Afrika'daki Osmanlı hâkimiyetini genişletmek  
B) Karadeniz'de Türk egemenliğini sağlamak  
C) Osmanlı denizcilerinin okyanuslardaki faaliyetlerini geliştirmek  
D) Hint deniz ticaret yolunu Portekizlilerin kontrolünden kurtarmak

4. Almanya'da Martin Luther'in başlattığı olay, aşağıdakilerden hangisidir?

A) Sanayi İnkılabı  
B) Reform hareketleri  
C) Aydınlanma Çağı  
D) Sömürgecilik faaliyetleri

5. Bugünkü Türkiye-İran sınırını büyük ölçüde belirleyen antlaşma, aşağıdakilerden hangisidir?

A) Zitvatoruk B) Vasvar  
C) Bucaş D) Kasr-ı Şirin

#### 4. OTURUM

6. "Rusya'nın Osmanlı yönetiminde bulunan Ortodoksların haklarını koruyacağı" hükmü, ilk defa aşağıdaki antlaşmaların hangisinde yer almıştır?
- A) Belgrad B) Yaş  
C) Küçük Kaynarca D) Zıstovi
7. Nizam-ı Cedit Ordusu'nun masraflarını karşılamak üzere kurulan hazineye verilen isim, aşağıdakilerden hangisidir?
- A) İrad-ı Cedit B) Eşkinici  
C) Sekban-ı Cedit D) Enderun
8. Uşi Antlaşması'yla İtalya'ya geçici olarak bırakılan yer, aşağıdakilerden hangisidir?
- A) Kıbrıs B) Midilli  
C) On İki Ada D) Girit
9. Aşağıdakilerden hangisi, Osmanlı Devleti'nde bir yönetim birimidir?
- A) Zeamet B) Kalyon C) Has D) Sancak
10. Osmanlı Ordusu'nda havan toplarını ve elle atılan içi patlayıcı madde ile dolu gülleleri yapan ve kullanan teknik sınıf, aşağıdakilerden hangisidir?
- A) Topçular B) Humbaracılar  
C) Cebeciler D) Akıncılar
11. Yüz ölçümü en küçük olan coğrafi bölgemiz hangisidir?
- A) Marmara B) Güneydoğu Anadolu  
C) Ege D) Akdeniz
12. I- Karadeniz iklimi  
II- Karasal iklim  
III- Akdeniz iklimi  
Yukarıda verilen iklim tiplerinden hangileri Marmara Bölgesi'nde görülür?
- A) I – II B) I – III C) II – III D) I – II – III
13. Türkiye'nin tahıl ambarı olarak isimlendirilen bölümü aşağıdakilerden hangisidir?
- A) Orta Kızılırmak Bölümü  
B) Ergene Bölümü  
C) Erzurum - Kars Bölümü  
D) Konya Bölümü
14. Aşağıdaki il merkezlerinden hangisi Orta Karadeniz Bölümünde yer almaz?
- A) Trabzon B) Tokat  
C) Amasya D) Samsun
15. Aşağıdaki ovalardan hangisinde tarımsal ürün çeşitliliği daha azdır?
- A) Çukurova B) Muş ovası  
C) Amik ovası D) Çarşamba ovası
16. Aşağıdakilerden hangisi Karadeniz Bölgesi ile Akdeniz Bölgesinin ortak özelliğidir?
- A) Dağlarının kıyıya paralel uzanması  
B) Aynı iklimlerin etkisi altında olması  
C) Karakteristik bitki örtülerinin maki olması  
D) En önemli yer altı kaynaklarının taşkömürü olması
17. Türkiye ile Gürcistan arasındaki sınır kapısı hangisidir?
- A) Cilvegözü B) Habur  
C) Gürbulak D) Sarp
18. Romanya ve Bulgaristan'ın aşağıdaki denizlerden hangisine sınırı vardır?
- A) Ege Denizi B) Akdeniz  
C) Karadeniz D) Marmara Denizi
19. Tarihte Mezopotamya adı verilen bölge hangi nehirler arasında yer almaktadır?
- A) Fırat-Dicle B) Yeşilırmak-Kızılırmak  
C) Kura-Aras D) Seyhan-Ceyhan
20. Aşağıda verilen başkent ve ait olduğu ülke eşleştirmelerinden hangisi yanlıştır?
- | <u>Başkent</u> | <u>Ülke</u> |
|----------------|-------------|
| A) Atina       | Yunanistan  |
| B) Bakü        | Azerbaycan  |
| C) Tiflis      | Ermenistan  |
| D) Şam         | Suriye      |

#### 4. OTURUM

#### İNGİLİZCE - 7

1. – 20. sorularda boş bırakılan yerlere uygun düşen sözcük veya ifadeyi bulunuz.

1. My sister ..... a teacher now. She ..... a student last year.

A) is / was                      B) was / is  
C) is / is                        D) was / was

2. Tom and Ahmet ..... in Çanakkale yesterday. They ..... in Bolu now.

A) are / were                      B) were / were  
C) are / are                        D) were / are

3. A: You weren't at home this morning. Were you at the supermarket?  
B: .....

A) Yes, I was at home.  
B) No, I was at the bank.  
C) No, I was at the supermarket.  
D) Yes, I was at the cinema.

4. Ali can't see well. He .....

A) have to stop at the red light.  
B) has to be quiet in the classroom.  
C) has to wear glasses.  
D) have to get up early.

5. .... money have you got?

A) How much                      B) How many  
C) How old                        D) How tall

6. A: ..... time is it?  
B: It's six o'clock.

A) Which                              B) Who  
C) What                                D) Where

7. It ..... everyday last week so we played snowball.

A) didn't snow                      B) snowed  
C) rained                              D) was sunny

8. A: Did your father buy a bicycle for you?  
B: No, he didn't. He .....

A) didn't study English.  
B) did his homework.  
C) bought a bicycle  
D) bought a car

9. ...., didn't you?

A) You closed the window  
B) You didn't go to the cinema  
C) She works in a big company  
D) He doesn't like shopping

10. Mary can't play the piano, .....

A) did she?                        B) will she?  
C) can she?                        D) is she?

11. A: Your hand is bleeding. What happened to you?  
B: .....

A) She broke her leg.  
B) I cut my finger.  
C) He fell down.  
D) You are really bad.

12. Babies can't dress by .....

A) themselves                      B) ourselves  
C) herself                            D) himself

13. He lives ..... in Ankara.

A) someone                        B) somebody  
C) something                        D) somewhere

14. There isn't ..... in this box.

A) somewhere                      B) something  
C) anything                        D) anywhere

15. I am ..... than my grandfather.

A) cheaper                            B) younger  
C) more expensive                      D) more crowded

16. Fatma is more hardworking than Ayşe. Her school report is ..... than Ayşe's.

A) worse                              B) bad  
C) good                                D) better

17. Sezen and Cumhur are seven years old. Cumhur is ..... Sezen.

A) as heavy as                        B) as old as  
C) as tall as                            D) as friendly as

#### 4. OTURUM

18. My bag is big but Ali's bag is small.  
My bag is ..... Ali's

A) different from      B) the same as  
C) as big as          D) not as big as

19. I ..... basketball to football.

A) like      B) hate      C) want      D) prefer

20. A: We can't get on this bus.

B: Why not?

A: Because it's .....

A) very tired      B) very nice  
C) too crowded      D) too big

#### ALMANCA - 7

1. – 15. sorularda boş bırakılan yerlere uygun  
düşen sözcük veya ifadeyi bulunuz.

1. - Wie geht es Ihnen?

- Danke, ..... .

A) es / geht / mir / gut      B) es / gut / mir / geht  
C) es / ihm / geht / gut      D) danke / gut / es / geht

2. - Wie heißt du?

- Ich ..... Peter.

A) trinke      B) heißen      C) heiß      D) heiße

3. Hier ist ..... Heft. Hier sind auch ..... Bücher.

A) der / die      B) das / die  
C) den / der      D) dem / den

4. Ich ..... hier Deutsch. Ich ..... in der Klasse.

A) lernt / seid      B) lernen / sind  
C) lerne / bin      D) lernst / bist

5. Rita hat ..... .

A) Geburtstag      B) Tag  
C) Geboren      D) Storben

6. - Für wen ist dieses Geschenk?

- Ich habe ein Geschenk ..... .

A) mir / gut      B) für / zu  
C) für / dich      D) im / für

7. Ich danke Ihnen ..... .

A) mich / für      B) für / das Geschenk  
C) um / zu      D) für / mich

8. Ich ..... dir zum Geburtstag.

A) kann      B) bilden  
C) müsse      D) gratuliere

9. Ich ..... ins Kino und ..... Theater gehen.

A) will / ins      B) ins / will  
C) müsse / nach      D) nach / müsse

10. - Wann hast du Geburtstag?

- Ich habe ..... 8. Januar Geburtstag.

A) zu      B) um      C) am      D) ins

11. Wir werden Deutsch ..... .

A) lernst      B) lernen      C) trinke      D) lernt

12. Unser Haus ..... unsere ..... .

A) und / Familie      B) Familie / und  
C) uns / und      D) will / neu

13. Der Zug ..... um 7.<sup>00</sup> Uhr ..... .

A) laden / ein      B) an / kommt  
C) kauf / ein      D) kommt / an

14. Mein ..... und meine ..... sind meine Eltern.

A) Bruder / Schwester      B) Mutter / Vater  
C) Vater / Mutter      D) Tante / Onkel

15. Ich wasche ..... die Hände.

A) dir      B) mir      C) sie      D) zu

16. Hangisi diğerlerini kapsar?

A) Der November      B) Der September  
C) Der Oktober      D) Der Herbst

#### 4. OTURUM


17. Ich / wünsche / Ihnen / ein glückliches /  
1 2 3 4

neues Jahr  
5

Kurallı bir cümle oluşturunuz.

- A) 1 / 3 / 2 / 4 / 5 B) 1 / 2 / 3 / 4 / 5  
C) 1 / 5 / 3 / 2 / 4 D) 1 / 4 / 3 / 5 / 2

18. Wie spät ist es?



- A) Es ist fünf vor drei. B) Es ist fünf nach drei.  
C) Es ist drei Uhr. D) Es ist vier Uhr.

19. "Ich gehe zum Arzt, weil ich krank bin." cümlesinin Türkçe karşılığı hangisidir?

- A) Doktora giderim hasta olursam.  
B) Doktora gideceğim hasta olacağım zaman.  
C) Doktora gitmek istiyorum çünkü hastayım.  
D) Hasta olduğum için doktora gidiyorum.

20. Hangisinin Türkçe karşılığı yanlış verilmiştir?

- A) die Jahreszeit : Mevsim  
B) Der Sommer : Yaz  
C) Der Freitag : Çarşamba günü  
D) Der Frühling : İlkbahar

#### FRANSIZCA - 7

1.- 8. sorularda boş bırakılan yerlere uygun düşen kelime ya da ifadeyi işaretleyiniz.

1. Je suis né ..... Turquie.

- A) en B) au C) à D) aux

2. Tes camarades ..... allés à Ankara.

- A) ont B) êtes C) est D) sont

3. Ali est fort ..... un lion.

- A) quand B) comme C) dans D) sont

4. La fourmi est ..... travailleuse que l'abeille.

- A) son B) chez C) aussi D) les

5. Mon grand-père est ..... vieux que mon père.

- A) plus B) moins C) aussi D) chez

6. Je veux des tomates.  
C'est combien .....?

- A) le litre B) le bouquet  
C) le kilo D) la bouteille

7. Pour acheter de l'huile, il faut aller ..... .

- A) au cinema B) à l'épicerie  
C) à la boulangerie D) à la poste

8. Vous faites un regime.

Vous ne mangez pas ..... .

- A) de la salade B) de légume  
C) du lait D) de pain

Silinmiş: de

9. "Ils ont des amis" cümlesinin olumsuz şekli aşağıdakilerden hangisidir?

- A) ils n'ont pas d'amis.  
B) il n'aime pas la viande.  
C) Ils n'ont pas les amis.  
D) Ils ont toujours des amis.

10. "Il y a du soleil." cümlesinin dengi aşağıdakilerden hangisidir?

- A) Il y a de la neige. B) Il y a des nuages.  
C) Il fait du soleil. D) Il pleut.

#### 4. OTURUM

11. "Nous (Rentrer) à la maison à 20 h."  
Soruda parantez içinde verilen fiili geçmiş zamanda (passé composé) çekerek cümleyi tamamlayınız.

- A) suis rentré B) sommes rentrés  
C) rentrons D) rentres

12. "S'il (pleuvoir), la récolte sera belle."  
Yukarıda parantez içinde verilen fiili şimdiki zamanda (présent) çekerek cümleyi tamamlayınız.

- A) pleut B) a plu  
C) pleuvait D) irai

13. Aşağıdakilerden hangisi emir (impératif) cümlesidir?

- A) Je veux de l'eau.  
B) Ils ont des copains.  
C) Je fais du tennis.  
D) Dormez 7 ou 8 heures par nuit.

14. "Ses stylos sont sur ses livres." cümlesinin Türkçe ifadesi aşağıdakilerden hangisidir?

- A) Dolma kalemlerin kitapların üstündedir.  
B) Dolma kalemlerimiz kitaplarımızın altındadır.  
C) Dolma kalemleri kitaplarının üstündedir.  
D) Dolma kalemleri kitaplarının altındadır.

15. "J'ai fait mes études à Paris." cümlesinin sorusu aşağıdakilerden hangisidir?

- A) Vous mangez du yaourt?  
B) Où est-ce que vous avez fait vos études?  
C) Qui est Metin?  
D) Tu connais Victor Hugo?

16.- 20. karşılıklı konuşma sorularında boş bırakılan yerlere uygun düşen kelime veya ifadeyi işaretleyiniz.

16. A: Maman, est-ce que tu veux du café?  
B: Non, Merci, Je n' ..... veux pas.

- A) des B) y C) la D) en

17. A: Tu n'aimes pas le cours de mathématiques !  
pourquoi?

B: .....

- A) C'est la mère de Jean.  
B) Parce que c'est difficile.  
C) Je dèjeune à midi.  
D) Je dine à la maison.

18. A: Vous avez acheté quelque chose?  
B: Non, je n'ai ..... Acheté.

- A) rien B) pourquoi  
C) toujours D) quand

19. A: Comment trouves-tu Ankara?  
B: .....

- A) Je suis dans la piscine.  
B) Elle travaille dans une banque.  
C) Il est au portugal.  
D) Je trouve Ankara superbe, magnifique.

20. A: .....  
B: Je suis née à Bursa en 1980.

- A) Voulez-vous prendre du café?  
B) Quel temps fait-il à Bursa?  
C) Où est-ce que vous êtes née?  
D) Qui conduit la voiture?

#### GÜZEL KONUŞMA ve YAZMA - 7

1. Aşağıdakilerden hangisi bağlı cümle değildir?

- A) Eve erken geldi ama ablası gitmişti.  
B) Zil çaldı ve işçiler fabrikadan çıktı.  
C) Kabul ederim fakat bir şartım var.  
D) Ebru erken gelse derse girerdi.

2. Aşağıdakilerden hangisi sıralı cümledir?

- A) Adam, olanların sorumluluğunu üzerine almadı.  
B) Seni beklerdim ama çok işim var.  
C) Müşterinin ölçüsünü aldı, kumaşın üstündeki kâğıda yazdı.  
D) Onu beklerken uyuya kalmışım.

3. Aşağıdaki cümlelerin hangisinde altı çizili sözcük gerçek anlamıyla kullanılmıştır?

- A) Çok tatlı bir bebekleri var.  
B) Acı biberleri diğerlerinden ayırdı.  
C) Bu konuyla ilgili taze haberler geldi.  
D) Bu samimiyet her türlü düğümü çözer.

4. Aşağıdaki cümlelerin hangisinin yüklemi geçişsiz eylemdir?

- A) Aysun her akşam erkenden uyurdu.  
B) Bu uzun mektubu babasına yazdı.  
C) Bu kitabı gelişigüzel okumuşum.  
D) Yeni odasını çok sevmişti.

Silinmiş: 11

Biçimlendirilmiş: Yazı tipi: 1 nk

Silinmiş:

Biçimlendirilmiş: Girinti: Sol: 0,75 cm, Asılı: 0,5 cm

Biçimlendirilmiş: Girinti: Sol: 0,75 cm, Asılı: 0,5 cm

Biçimlendirilmiş: Girinti: Sol: 0,75 cm, Asılı: 0,5 cm

Biçimlendirilmiş: Girinti: Sol: 0,75 cm, Asılı: 0,5 cm

Biçimlendirilmiş: Girinti: Sol: 0,75 cm, Asılı: 0,5 cm



#### 4. OTURUM

5. Ömrümüz sona erdiği zaman, bunların hepsi ortada kalır. Ama faydalı bir iş yaptınızsa, sizden sonra gelecekleri daha iyi edecek, onları daha çabuk toparlayacak bir hizmette bulunabildinizse, kendiniz ölseniz bile adınız yaşar.

Yukarıdaki parçanın giriş cümlesi aşağıdakilerin hangisi olabilir?

- A) Servet, mal, mülk bunların hiçbiri bir kıymet değildir.
- B) Okumak insanı geliştirir, değiştirir ve ufkunu açar.
- C) Her doğan güne yeni umutlarla başlarız.
- D) Sevgi, karşımızdaki insanları düşünmek demektir.

6. Aşağıdaki yazı türlerinden hangisi olaya dayalı değildir?

- A) Roman
- B) Anı
- C) Masal
- D) Deneme

7. İnsan sevmediği, sevmediği işlerde bütünlüğünü gerçekleştiremez. Daha az kendisi olur. Sevmediği için kendisini sıkı işinden çok, özlemine duyduğu işleri düşünür. Tembel dediğimiz insan, her şeyden önce, aradığı işi bulamayan insandır.

Yukarıdaki paragrafın son cümlesi aşağıdaki cümlelerden hangisi olamaz?

- A) Bizi kendimiz yapmayan hiçbir iş, bizim işimiz olmamalı.
- B) Başarılı insan, kendisine en çok uyan işlerde çalışan kimsedir.
- C) Başarmak için her koşulda çalışmak gerekir.
- D) Bu sebeple insan kendisine uygun işi aramalıdır.

8. Aşağıdakilerden hangisi, olay anlatan yazıların dört ögesinden biri değildir?

- A) Kişi
- B) Yer
- C) Zaman
- D) Serim

9. Masallarda "Gökten düştü üç elma, biri..." söyleyişiyle başlayan bölüme ne ad verilir?

- A) Tekerleme
- B) Serim
- C) Dügüm
- D) Çözüm

10. Bir gün olup kucağına ulaşısam  
Gözlerimden döksem sevinç yaşını.  
Bayrağımın gölgesinde dolaşısam  
Öpsem, öpsem toprağını, taşını....

Orhan Seyfi ORHON

Bu dördlükte aşağıdakilerden hangisi anlatılmıştır?

- A) İnsan sevgisi
- B) Ölüm korkusu
- C) Vatan hasreti
- D) Sevgiliye duyulan özlem

11. Ne atom bombası,  
Ne Londra Konferansı;  
Bir elinde cımbız,  
Bir elinde ayna;  
Umurunda mı dünya!

Orhan Veli KANIK

Yukarıdaki şiirin ölçüsü aşağıdakilerden hangisidir?

- A) Serbest ölçü
- B) Uyak düzeni
- C) Dize
- D) Dördlük

12. Aşağıdakilerden hangisi tartışmaya dayalı bir sözlü anlatım türü değildir?

- A) Panel
- B) Konferans
- C) Açık oturum
- D) Sempozyum

13. Aşağıdakilerden hangisi hazırlıksız konuşmada dikkat edilmesi gereken kurallardan biri değildir?

- A) Konunun ayrıntılarına fazla yer verilmemelidir.
- B) Olay anlatılırken sıralı anlatıma önem verilmelidir.
- C) Ortaya konulan düşünceyi savunma nedeni belirtilmelidir.
- D) Konuşma mümkün olduğunca uzun yapılmalıdır.

#### 4. OTURUM

#### TURİZM - 7

14. Değerli izleyicilerimiz, işte bu doyumsuz şiir anlarının sonuna geldik. Bu güzel şiirlerle cumhuriyet coşkumuzu ve sevgimizi artırıp, yoğunlaştırdık. Bu çalışmaya emek veren herkesi gönülden kutluyorum. Bu tür etkinliklerin süreceğini belirtmek istiyorum. Programımıza katıldığınız için teşekkür edip saygılar sunuyorum.

Yukarıdaki paragraf, bir konuşmanın hangi bölümünden alınmıştır?

- A) Açılış  
C) Tanıtım  
B) Kapanış  
D) Gelişme

15. Hepinizi hasretle kucaklar, sana ve eşine mutluluklar dilerim.

Yukarıdaki cümle bir özel mektubun hangi bölümüne aittir?

- A) Sesleniş  
C) Gelişme  
B) Giriş  
D) Sonuç

16. Aşağıdakilerden hangisi telgrafın türlerinden biri değildir?

- A) Normal  
C) Kısa  
B) Acele  
D) Yıldırım

17. Sayın Ahmet ÇETİN  
11.09.2008 tarihinde yapılacak olan Yönetim Kurulu Toplantısına katılmanızı temenni ederiz.

Yukarıdaki metnin türü aşağıdakilerden hangisidir?

- A) Davetiye  
C) Mektup  
B) Tebrik  
D) Dilekçe

18. Aşağıdakilerden hangisi öz geçmiş yazarken kişisel bilgiler içinde verilmez?

- A) Adı – soyadı  
C) Medeni hâli  
B) Eğitim bilgileri  
D) Doğum tarihi

19. Aşağıdakilerden hangisi yüz yüze yapılan iş görüşmesine verilen addır?

- A) Röportaj  
C) Sohbet  
B) Dilekçe  
D) Mülakat

20. Resmî kurum ve kuruluşlara, isteklerin yazılı olarak iletildiği mektuplara ne denir?

- A) Başvuru  
C) Dilekçe  
B) Mülakat  
D) Mektup

1. Kendi ülkelerinde turizm amaçlı seyahat edenlere ne ad verilir?

- A) Yerli turist  
B) Yabancı turist  
C) Yabancı gönübirlikçi  
D) Yabancı ziyaretçi

2. Bir Japon'un gezip görmek için ülkemize gelmesi ülkemiz için aşağıdakilerden hangisine örnek olur?

- A) İç turizme  
C) Aktif dış turizme  
B) Pasif dış turizme  
D) Kitle turizmine

3. Birey ya da ailenin her hangi bir gruba ya da yere bağlı olmadan yapmış oldukları turizm etkinliklerine ne ad verilir?

- A) Kolektif turizm  
C) Sosyal turizm  
B) Kitle turizmi  
D) Kişisel turizm

4. Kitle turizmi genellikle aşağıdakilerden hangisi tarafından düzenlenir?

- A) Ulaştırma işletmeleri  
B) Seyahat acenteleri  
C) Eğitim kurumları  
D) Konaklama işletmeleri

5. Aşağıdakilerden hangisi halk turizmini destekleyici nitelikte değildir?

- A) Kamu kuruluşlarının kamp ve dinlenme tesisleri kurması  
B) Bankaların tatil kredisi vermesi  
C) Seyahat acentelerinin taksitli tatil olanağı vermesi  
D) Lüks turizm işletmelerinin yaygınlaştırılması

6. Gençlik ve Spor Genel Müdürlüğünün gençlik turizmine yönelik kamplarından olan İntepe Gençlik Kampı, hangi ilimizde yer alır?

- A) Çanakkale  
C) Hatay  
B) Bursa  
D) Aydın

7. Ülkemizde aşağıdaki aylardan hangisinde yaz turizmine katılım diğer aylara göre daha fazladır?

- A) Ekim  
C) Nisan  
B) Temmuz  
D) Eylül

#### 4. OTURUM

8. Aşağıdaki turizm merkezlerimizden hangisinde aralık, ocak, ve şubat aylarında sezon içi turizm koşulları vardır?
- A) Ayvalık B) Alanya  
C) Palandöken D) Bodrum
9. Aşağıdaki turizm çeşitlerinden hangisi ulaşım araçlarına göre turizm grubunda yer alır?
- A) Karavan turizmi B) Kitle turizmi  
C) Gençlik turizmi D) Halk turizmi
10. Gemi turizminde kullanılan, turistlere uyuma, dinlenme, eğlenme, spor yapma ve çeşitli kültürel etkinliklerde bulunma olanağı sağlayan, büyük, hızlı ve lüks yolcu gemilerine ne ad verilir?
- A) Feribot B) Vapur  
C) Kurvaziyer D) Yat
11. Aşağıdakilerden hangisi turizmin ülke ekonomisine katkılarından değildir?
- A) Yeni pazarlar oluşturması  
B) İstihdam olanaklarını artırması  
C) Ülkeye döviz kazandırması  
D) İnsanlar arasında dostlukları güçlendirmesi
12. Aşağıdakilerden hangisi turizm gelirlerindendir?
- A) Konaklama hizmetlerinden sağlanan gelirler  
B) İhracattan sağlanan dövizler  
C) İthalata yapılan harcamalar  
D) Turizm personeline ödenen ücretler
13. Turizmin ülke ekonomisine yararlarından hangisi ödemeler dengesine olumlu etki yapar?
- A) İstihdam olanağı sağlaması  
B) Ekonomiyi canlandırması  
C) Döviz kazandırması  
D) Millî geliri artırması
14. Ek ihracat kavramını aşağıdakilerden hangisi açıklar?
- A) Ülke dışına mal satma  
B) Ülke dışından mal satın alma  
C) Ülke dışında vatandaşlarımızın mal ve hizmet satın almaları  
D) Ülke içinde yabancı turistlerin mal ve hizmet satın almaları
15. Turizm gelirlerini artıran aşağıdaki etkenlerden hangisi turistik zenginlikleri tanıtarak ilgi uyandırmayı ve talebi artırmayı amaçlar?
- A) Teknolojik gelişmeler  
B) Reklam ve tanıtım  
C) Gelir düzeyinin yükselmesi  
D) Çalışma koşullarının iyileşmesi
16. Aşağıdakilerden hangisi turizm eğitiminin amaçlarından değildir?
- A) Doğal güzellikleri turizm sektörüne kazandırmak  
B) Turizm sektörüne nitelikli eleman yetiştirmek  
C) İnsanlarda olumlu turizm bilincinin oluşmasını sağlamak  
D) Turizmin ekonomik kalkınmadaki önemini kavratmak
17. Kültür ve Turizm Bakanlığına bağlı, turizm eğitimi veren yaygın eğitim kurumu aşağıdakilerden hangisidir?
- A) Anadolu Açık Meslek Liseleri  
B) Turizm Eğitim Merkezleri  
C) Anadolu Otelcilik ve Turizm Meslek Liseleri  
D) Ticaret ve Turizm Eğitimi Fakültesi
18. Aşağıdakilerden hangisi profesyonel turist rehberliği kurslarına katılmak için aranan koşullardan değildir?
- A) T.C. vatandaşı olmak  
B) 18 yaşını doldurmuş olmak  
C) Çok iyi derecede yabancı dil bilmek  
D) Turistik otel sahibi olmak
19. Mesleki turizm eğitimi veren okulların amacı aşağıdakilerden hangisidir?
- A) Halkı turizm konusunda bilinçlendirmek  
B) Turizm sektörüne nitelikli personel yetiştirmek  
C) Turizmi kalkınmada öncü sektör yapmak  
D) İnsanların turizme ilgisini çekmek
20. Aşağıdakilerden hangisi turizmin sosyal çevreye olumlu etkilerindendir?
- A) Dilde yabancılaşmaya yol açması  
B) Turizm merkezlerine göçü hızlandırması  
C) Dünya barışına katkı sağlaması  
D) Manevi ve kültürel değerleri yozlaştırması

TEST BİTTİ.  
CEVAPLARINIZI KONTROL EDİNİZ.

Soracağınız bir şey var mı? Varsa şimdi sorunuz; sınav başladıktan sonra sorularınıza cevap verilmeyecektir. Hazır mısınız?

Sınav okulun bütün salonlarında aynı anda başlayacağı için başlama zilini beraberce bekleyelim. Hepinize başarılar dileriz. **(Salon başkanları başlama ve bitiş saatini tahtaya yazacaktır.)**

Bu soru kitapçığının her hakkı saklıdır. Hangi amaçla olursa olsun, kitapçığın tamamının veya bir kısmının Millî Eğitim Bakanlığı Eğitim Teknolojileri Genel Müdürlüğü'nün yazılı izni olmadan kopya edilmesi, fotoğraflarının çekilmesi, bilgisayar ortamına alınması, herhangi bir yolla çoğaltılması, yayımlanması veya başka bir amaçla kullanılması yasaktır. Bu yasağa uymayanlar, doğabilecek cezai sorumluluğu ve kitapçığın hazırlanmasındaki malî külfeti peşinen kabullenmiş sayılır.

**MATEMATİK - 7**

1. A
2. C
3. C
4. A
5. B
6. B
7. D
8. C
9. B
10. D
11. D
12. A
13. C
14. A
15. B
16. C
17. A
18. D
19. B
20. D

**SOSYAL BİL. - 7**

1. C
2. B
3. D
4. B
5. D
6. C
7. A
8. C
9. D
10. B
11. B
12. D
13. D
14. A
15. B
16. A
17. D
18. C
19. A
20. C

**YABANCI DİL - 7**

1. A
2. D
3. B
4. C
5. A
6. C
7. B
8. D
9. A
10. C
11. B
12. A
13. D
14. C
15. B
16. D
17. B
18. A
19. D
20. C

**GÜZEL KONUŞ-  
MA ve YAZMA - 7**

1. D
2. C
3. B
4. A
5. A
6. D
7. C
8. D
9. A
10. C
11. A
12. B
13. D
14. B
15. D
16. C
17. A
18. B
19. D
20. C

**TURİZM - 7**

1. A
2. C
3. D
4. B
5. D
6. A
7. B
8. C
9. A
10. C
11. D
12. A
13. C
14. D
15. B
16. A
17. B
18. D
19. B
20. C